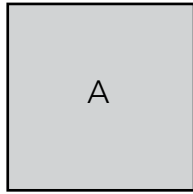
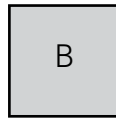


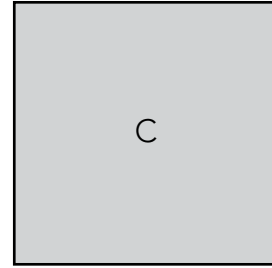
1 Calcula el perímetro y el área de estos cuadrados:



9 cm



6 cm



12 cm

Perímetro =

Perímetro =

Perímetro =

Área =

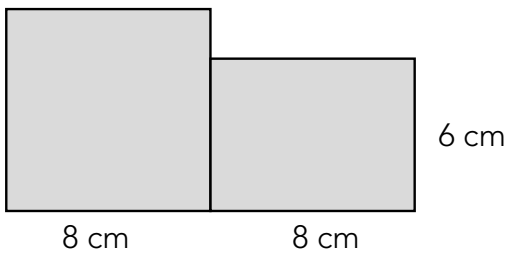
Área =

Área =

2 La base de un rectángulo mide 15 cm, y la altura, 9 cm. ¿Cuál es su perímetro? ¿Y su área?

.....
.....

3 Calcula el área de esta figura:



Área =

4 ¿Cuál es el área de este paralelogramo?

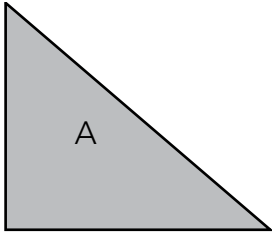


Área =

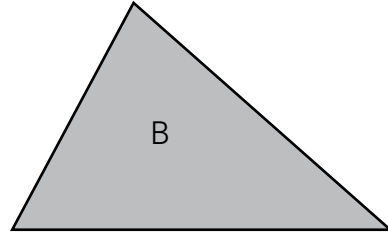
5 ¿Cuál es la superficie que ocupa una mesa rectangular de 80 cm de largo por 60 cm de ancho?

.....

6 Mide con la regla y calcula el área de cada triángulo.

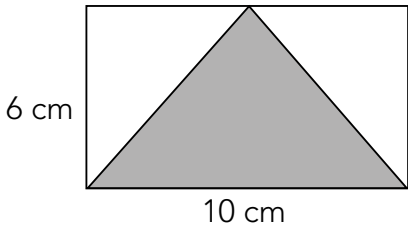


Área = $\frac{\times}{2}$ = cm²



Área = $\frac{\times}{2}$ = cm²

7 Calcula el área del triángulo sombreado.



Área =


8 Calcula el área de un triángulo cuya base mide 7 cm y cuya altura mide 5 cm.

.....

9 ¿Cuánto mide la longitud de una circunferencia de 6 cm de radio?

.....

10 Halla el área de este círculo de radio 9 cm:



Área =